

142. सभी वर्षों के दौरान राज्य B से उपस्थित होने वाले उम्मीदवारों की तुलना में, सभी वर्षों के लिए राज्य B से उत्तीर्ण उम्मीदवारों का अनुमानित प्रतिशत कितना है ?

What is the approximate percentage of candidates qualified from state B for all the years together, over the candidates appeared from state B during all the years together ?

- (A) 16% (B) 13% (C) 8% (D) 11%

143. दिए गए वर्षों में से किस वर्ष में राज्य C से उपस्थित होने वाले उम्मीदवारों की संख्या में उत्तीर्ण उम्मीदवारों का प्रतिशत अधिकतम है ?

In which of the given years the number of candidates appeared from state C has maximum percentage of qualified candidates ?

- (A) 2005 (B) 2004  
(C) 2001 (D) 2003

144. यदि '-' का अर्थ भाग है, '+' का अर्थ गुणा है, '+' का अर्थ घटाना है और 'x' का अर्थ जोड़ है, तो

$$18 \times 36 - 6 \div 2 + 3 = ?$$

If '-' stands for division, '+' stands for multiplication, '+' stands for subtraction and 'x' stands for addition, then

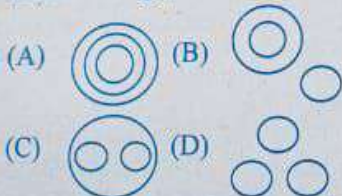
$$18 \times 36 - 6 \div 2 + 3 = ?$$

- (A) 12 (B) 8 (C) 3 (D) 18

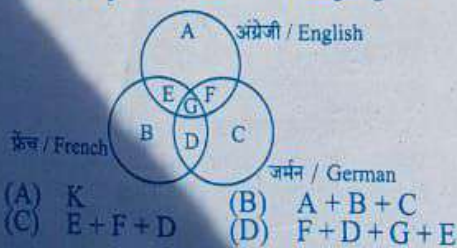
145. वह वेन आरेख चुनें जो निम्न के बीच संबंध को सबसे अच्छी तरह से समझाता है :

मनुष्य, चूहे, डॉक्टर

Choose the Venn diagram which best explains relationship among the given :  
Human beings, Rats, Doctors



146. आरेख का अध्ययन करें और उन लोगों की पहचान करें जो कम से कम दो भाषाएँ बोल सकते हैं।  
Study the diagram and identify the people who can speak at least two languages.



147. अक्षरों का कौन सा समूह दी गई अक्षर शृंखला में रिक्त स्थानों पर क्रमिक रूप से रखे जाने पर इसे पूरा करेगा ?

Which one set of letters when sequentially placed at the gaps in the given letter series shall complete it ?

- P\_RSQ\_RP\_QR\_QS\_PP\_RS  
(A) QSPSRQ (B) QSRSPQ  
(C) QSPQRQ (D) QSSPRQ

148. दिए गए विकल्पों में से वह सही विकल्प चुनें जो शृंखला को पूरा करेगा :

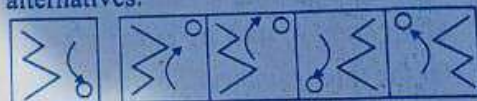
Choose the correct alternative from given ones that will complete the series :

98, 81, 64, 47, 30, (?)

- (A) 17 (B) 15 (C) 11 (D) 13

149. चार विकल्पों में से दी गई आकृति (X) की सही दर्पण छवि चुनें।

Choose the correct mirror image of the given figure (X) from amongst the four alternatives.



- (X) (1) (2) (3) (4)  
(A) (4) (B) (3) (C) (1) (D) (2)

150. निम्नलिखित प्रश्न में, एक शब्द दिया गया है, उसके बाद चार शब्द दिए गए हैं, जिनमें से दिए गए शब्द के अक्षरों का उपयोग करके एक शब्द बनाया जा सकता है। वह शब्द ज्ञात कीजिए।

In the following question, one word is given, followed by four words, one of which can be formed using the letters of the given word. Find that word.

DETERMINATION

- (A) TERMINATED  
(B) DEVIATION  
(C) NATIONAL  
(D) DECLARATION

57. प्राचीन जैन और बौद्ध ग्रंथों के अनुसार, कितने महाजनपद थे ?

- (A) सोलह (B) चौदह  
(C) दस (D) बारह

According to ancient Jain and Buddhist texts, how many Mahajanapadas were there ?

- (A) Sixteen (B) Fourteen  
(C) Ten (D) Twelve

58. निम्नलिखित में से कौन उत्तर प्रदेश के जिलों में सर्वोच्च रैंकिंग वाले पुलिस अधिकारी हैं (कमीशनरी के अलावा) ?

- (A) डीपीओ (पुलिस उपनिरीक्षक)  
(B) एसपीओ (सहायक पुलिस अधीक्षक)  
(C) एसपी (पुलिस अधीक्षक)  
(D) पीएसआई (पुलिस सब-इंस्पेक्टर)

Which of the following is the highest-ranking Police Officer in the districts of Uttar Pradesh (except Commissionerate) ?

- (A) DCP (Deputy Commissioner of Police)  
(B) ACP (Assistant Commissioner of Police)  
(C) SP (Superintendent of Police)  
(D) PSI (Police Sub Inspector)

59. निम्नलिखित में से कौन सा व्यय, केंद्र सरकार की भौतिक व वित्तीय संपत्तियों के निर्माण के अलावा अन्य उद्देश्यों के लिए किया जाता है ?

- (A) कर व्यय (B) पूंजीगत व्यय  
(C) अत्यधिक व्यय (D) राजस्व व्यय

Which of the following expenditure is incurred for purposes other than the creation of physical or financial assets of the central government ?

- (A) Tax Expenditure  
(B) Capital Expenditure  
(C) Outcrossed Expenditure  
(D) Revenue Expenditure

GL-4

60. निम्नलिखित में से कौन सा बंदरगाह भारत का सबसे बड़ा कंटेनर बंदरगाह है ?

- (A) न्यू मैंगलोर बंदरगाह  
(B) कांकला बंदरगाह  
(C) जवाहरलाल नेहरू बंदरगाह  
(D) कोच्चि बंदरगाह

Which of the following port is the largest container port of India ?

- (A) New Mangalore Port  
(B) Kandla Port  
(C) Jawaharlal Nehru Port  
(D) Kochi Port

61. निम्नलिखित में से किस घटना के कारण, मोहनदास करमचंद गांधी ने 1922 में अनहवोग आंदोलन स्थगित कर दिया ?

- (A) बंगाल का विभाजन  
(B) लाला लाजपत राय लाठी चार्ज घटना  
(C) जलियाँवाला बाग नरसंहार  
(D) चौरा-चौरा घटना

Mohandas Karamchand Gandhi called off the Non-Co-operation Movement in 1922, due to which of the following incident ?

- (A) Partition of Bengal  
(B) Lala Lajpat Rai Lathi Charge Incident  
(C) Jallianwala Bagh Massacre  
(D) Chauri-Chaura incident

62. निम्नलिखित में से कौन सी फसल खरीफ की फसल नहीं है ?

- (A) सोयाबीन (B) गेहूँ  
(C) मक्का (D) मूँगफली

Which of the following crop is not a kharif crop ?

- (A) Soyabean (B) Wheat  
(C) Maize (D) Groundnut

14

63. उत्तर प्रदेश में, राजकीय स्वतंत्रता संग्राम संग्रहालय (शहीद स्मारक) निम्नलिखित में से किस स्थान पर स्थापित है ?

- (A) मेठ (B) गंगा घाट  
(C) मथुरा (D) चौरा-चौरा

In Uttar Pradesh, the Government Freedom Struggle Museum (Shaheed Smarak) is established in which of the following location ?

- (A) Meerut (B) Ganga Ghat  
(C) Mathura (D) Chauri-Chaura

64. उत्तर प्रदेश ने हाल ही में किस क्षेत्र में PMJAY के कार्यान्वयन के लिए 2023 में पुरस्कार प्राप्त किया है ?

- (A) उद्योग (B) शिक्षा  
(C) कृषि (D) स्वास्थ्य सेवा

Uttar Pradesh has recently bagged awards in 2023 for its execution of PMJAY in which sector ?

- (A) Industries (B) Education  
(C) Agriculture (D) Healthcare

65. जनगणना 2011 के अनुसार, उत्तर प्रदेश राज्य का समग्र लिंगानुपात क्या है ?

- (A) 982 (B) 912  
(C) 812 (D) 892

What is the overall sex-ratio of Uttar Pradesh State, according to Census 2011 ?

- (A) चीन (B) फ्रांस  
(C) कोस्टा रिका (D) ऑस्ट्रिया

The famous UNESCO site Bordeaux, Port of Moon is situated in which of the following country ?

- (A) China (B) France  
(C) Costa Rica (D) Austria

15

67. निम्नलिखित में से किस विशेष बल को विमान और हवाई-अड्डों पर अपहरण और इसी तरह की सुरक्षा स्थितियों का जवाब देने के लिए विशिष्ट दक्ष बल के रूप में नियुक्त किया गया है ?

- (A) एनआईए (B) सीबीआई  
(C) एनएसजी (D) आरपीएफ

Which of the following special force is mandated as the elite agile force to respond to hijacking and similar security situations on aircraft and airports ?

- (A) NIA (B) CBI  
(C) NSG (D) RPF

68. राजस्व परिषद, उत्तर प्रदेश की स्थापना निम्नलिखित में से किस जिले में की गई थी ?

- (A) इलाहाबाद (प्रयागराज)  
(B) मेठ  
(C) लखीमपुर  
(D) बाराणसी

The Board of Revenue, Uttar Pradesh was established in which of the following districts ?

- (A) Allahabad (Prayagraj)  
(B) Meerut  
(C) Lakhimpur  
(D) Varanasi

69. अंतर्राष्ट्रीय श्रम संगठन (ILO) ने बाल श्रम के वैश्विक विस्तार और इसे खत्म करने के लिए आवश्यक कार्रवाई और प्रयासों पर ध्यान केंद्रित करने के लिए 2002 में बाल श्रम के खिलाफ विश्व दिवस की शुरुआत की। प्रत्येक वर्ष विश्व बाल श्रम निरोध दिवस किस तारीख को मनाया जाता है ?

- (A) 7 अगस्त (B) 5 जुलाई  
(C) 12 जून (D) 1 मई

The International Labour Organization (ILO) launched the World Day against Child Labour in 2002 to focus attention on the global extent of child labour and the action and efforts needed to eliminate it. Each year on which date World Day against Child Labour is observed ?

- (A) 7<sup>th</sup> August (B) 5<sup>th</sup> July  
(C) 12<sup>th</sup> June (D) 1<sup>st</sup> May

15

GL-4

87. 'आकलन' निम्नलिखित में से किस शब्द का पर्यायवाची है ?  
 (A) कर्म (B) हुतावर्ण  
 (C) बर (D) मित्र
88. 'मनोरे जगत्त विमल वा से शैलिक चूड कातो है।' वाक्योक्त के लिए एक शब्द कौन सा है ?  
 (A) सौम्य (B) युक्त  
 (C) मधुर (D) उपरुच
89. किस विकल्प में शब्द युक्तिम भिन्नार्थक का सही अर्थ-भेद नहीं है ?  
 (A) अन्त-अन्त = बुद्ध्या-भेद  
 (B) अन्त-अन्त = रत्न-अन्त  
 (C) गन्-गन् = हाथी-गन्  
 (D) नीर-नीर = घोसला-पनी
90. 'छिड़नी खुलने से प्रकटा अरणा' इस वाक्य में किस प्रकार की अनुपेक्षा है ?  
 (A) कारक-संबन्धी (B) लिंग-संबन्धी  
 (C) वाक्य-रचना-संबन्धी (D) ध्वनि-संबन्धी
91. निम्नलिखित में से किसके नाम प्रायः पुलिगा होते हैं ?  
 (A) समुद्रों के नाम (B) भाषाओं के नाम  
 (C) नदियों के नाम (D) नदियों के नाम
92. निम्नलिखित में से किस शब्द का प्रयोग एकवचन में होता है ?  
 (A) इलाहाबाद (B) रत्न  
 (C) लोहा (D) रोम-कूट
93. 'अलमारी में कपड़े पड़े हैं।' रेखांकित शब्द में कौन सा कारक है ?  
 (A) अधिकात् कारक (B) कर्ता कारक  
 (C) कर्म कारक (D) सहायक कारक
94. 'कलम' शब्द में कौन सा प्रत्यय है ?  
 (A) क् (B) ल् (C) अत् (D) क्त
95. 'नरक' शब्द में मूल शब्द और प्रत्यय निम्न में से कौन सा है ?  
 (A) तराज + ट (B) तरा + क्त  
 (C) तर + अन्त (D) तरा + आन्त
96. 'आपकृष्ण' शब्द में कौन सा समास है ?  
 (A) कर्मधारय समास (B) द्वन्द्व समास  
 (C) शतृक समास (D) अव्ययीभाव समास
97. 'लक्ष' का तद्भव रूप बताइए :  
 (A) लब्ध (B) लच्छ (C) लख (D) लक्ष
98. 'रघुनाथ' किस तद्भव शब्द का तत्कम रूप है ?  
 (A) रघुनाथ (B) रामनाथ  
 (C) रघुनाथ (D) रामनाथ

99. निम्नलिखित में से कौन सा विवरण सही है ?  
 (A) (B) (C) (D)
100. निम्नलिखित में से कौन सा विशेषण संज्ञा को दर्शाता है ?  
 (A) शीघ्र (B) दूर गीटर कपड़ा  
 (C) लज्जगी (D) दर्शन
101. 'मच्छर भिन्नभिन्नते हैं।' इस वाक्य में कौन सी क्रिया है ?  
 (A) प्रेरणार्थक क्रिया (B) पूर्वकालिक क्रिया  
 (C) नामधातु क्रिया (D) स्तुतक क्रिया
102. 'लगा लोकाकार गीत गा रही है।' यह वाक्य किस काल का है ?  
 (A) नदिध वर्तमानकाल  
 (B) अपूर्ण (प्रवृत्त) वर्तमानकाल  
 (C) सामान्य वर्तमानकाल  
 (D) सामान्य भूतकाल
103. 'मजदुरों द्वारा पैड़ काटा गया।' इस वाक्य का वाक्य क्या होगा ?  
 (A) इनमें से कोई नहीं (B) कर्मवाच्य  
 (C) भाववाच्य (D) कर्तृवाच्य
104. 'छिठक जाना' शब्दों का अर्थ निम्नलिखित में से कौन सा है ?  
 (A) रुक जाना (B) पीछा खा जाना  
 (C) उदासी छा जाना (D) चले जाना
105. 'अभिन्न' शब्द का विलोम शब्द क्या है ?  
 (A) अनभिन्न (B) विन्न  
 (C) सर्वज्ञ (D) अल्पज्ञ
106. निम्नलिखित विकल्प में से एक लोकोक्ति है, उसका चयन कीजिए :  
 (A) जो गजले है से बरसने नहीं  
 (B) अस्तनी को सोप  
 (C) कदतुली होना  
 (D) अन्न चुराव
107. हिन्दी साहित्य में वास्तव्य पर कौ मिलाकर कुल कितने काव्य रस हैं ?  
 (A) 9 (B) 10 (C) 11 (D) 13
108. निम्नलिखित में से संबंधवाचक सर्वनाम का उदाहरण कौन सा नहीं है ?  
 (A) जिसका (B) आपको  
 (C) जो (D) सो
109. 'जैन' शब्द का संधि-विच्छेद क्या होगा ?  
 (A) जैने + न् (B) जैने + इन्  
 (C) जैने + इन् (D) जैने + एन्

110. 'शौ' शब्द का अनेकार्थी शब्द किस विकल्प में नहीं है ?  
 (A) दुष् (B) मित्र (C) सुद (D) मर्त्य
111. 'दोह और रौला छंद को क्रम से मिलाने पर कौन सा छंद बनता है ?  
 (A) बरये (B) सवेदा  
 (C) हरिणतिका (D) कुपदलिया
112. 'नील गगन-सा शान्त शब्द का हो रहा।' इस वीर्य में कौन सा अलंकार है ?  
 (A) उपमा (B) अन्वोक्ति  
 (C) संदेह (D) विरोधाभास
- निम्नलिखित गद्यांश को पढ़कर पूछे गए प्रश्नों के उत्तर दीजिए : (प्र. सं. 113-117)
- दैनिक जीवन में हम अनेक लोगों से मिलते हैं जो विभिन्न प्रकार के काम करते हैं - इष्टक पर टैला लगाने वाला, रूथ वाला, नगर-निगम का स्वयंसेवक, बस कंडक्टर, स्कूल-अध्यापक, हमारा सहपाठी और ऐसे ही कई अन्य लोग। मित्रता, सेवन, सहायता चलन और व्यवसाय के स्तर पर कुछ लोग निम्न स्तर पर कार्य करते हैं तो कुछ उच्च स्तर पर। एक माली के कार्य को सरकारी कार्यालय के किसी सचिव के कार्य से अति निम्न स्तर का माना जाता है, किंतु यदि वह अपने कार्य को कुशलतापूर्वक करता है और उत्कृष्ट सेवाएं प्रदान करता है तो उसका कार्य उच्च सचिव के कार्य से कहीं बेहतर है जो अपने काम में ढिलाई करता है तथा अपने उत्तरदायित्वों का निर्वाह नहीं करता। क्या आप ऐसे सचिव को एक आदर्श अधिकारी कह सकते हैं ? वास्तव में उच्च महत्वपूर्ण नहीं है, बल्कि महत्वपूर्ण होता है कार्य के प्रति समर्पण भाव और कार्यप्रणाली में परदर्शिता।
113. एक माली का कार्य सरकारी सचिव के कार्य से भी बेहतर है, यदि  
 (A) दोनों के काम की तुलना उनके पद-वेतन से न की जाए।  
 (B) माली अपने काम को कुशलता से करे, किंतु सचिव ढिलाई करते।  
 (C) माली अपने काम को कुशलता से करे।  
 (D) सचिव अपने काम को कुशलता से करे।
114. उपयुक्त शीर्षक छांटिए।  
 (A) कर्मनिष्ठा की महिमा (B) ऊँच-नीच  
 (C) स्तर-भेद (D) काम की महिमा
115. 'कार्यप्रणाली में परदर्शिता' का तात्पर्य है  
 (A) काम करने के ढंग में बतौ गई स्वच्छ सोच  
 (B) काम करने के ढंग में बतौ गई दृढ़ता  
 (C) काम करने के ढंग में बतौ गई चालाकी  
 (D) काम करने के ढंग में बतौ गई कुशलता

116. 'बेहतर' शब्द के लिए पर्यायवाची शब्द क्या होगा ?  
 (A) सामान्य (B) बुद्ध  
 (C) विभिन्न (D) न्याया जज्ज
117. सरल वाक्य बनाइए।  
 दैनिक जीवन में हम अनेक लोगों से मिलते हैं जो विभिन्न प्रकार के काम करते हैं।  
 (A) दैनिक जीवन में हम ऐसे लोगों से मिलते हैं और वे विभिन्न प्रकार के काम करते हैं।  
 (B) दैनिक जीवन में हम विभिन्न प्रकार के काम करने वाले लोगों से मिलते हैं।  
 (C) दैनिक जीवन में हम ऐसे अनेक लोगों से मिलते हैं जो विभिन्न प्रकार के काम करते हैं।  
 (D) दैनिक जीवन में हम अनेक लोगों से मिलते हैं और वे विभिन्न प्रकार के काम करते हैं।
118. बिहारी हिंदी का विकास निम्न में से किस भाषा से हुआ ?  
 (A) अपभ्रंश (B) मागधी अपभ्रंश  
 (C) मागधी (D) शौतेनी
119. 'भौतर' और 'बाह्य' यह किस क्रिया-विशेषण के उदाहरण हैं ?  
 (A) रीतिवाचक (B) परिमाणवाचक  
 (C) कालवाचक (D) स्थानवाचक
120. 'मेघ' शब्द का पर्यायवाची निम्न में से कौन सा है ?  
 (A) शम्भू (B) सूर्यवृन्द  
 (C) नीर (D) शंभु
121. 'कुल-कूल' श्रुतिम भिन्नार्थक शब्द का सही अर्थ-भेद निम्नलिखित में से कौन सा है ?  
 (A) सीतल-किनारा (B) तट-शीतल  
 (C) किनारा-वंश (D) वंश-किनारा
122. 'कैफकर चलावा जते वाला हथियार' वाक्यांश के लिए एक शब्द का चयन कीजिए।  
 (A) गुल्लक (B) भाला  
 (C) अस्त्र (D) शस्त्र
123. 'सामायण' के रचयिता कौन हैं ?  
 (A) वाल्मीकि (B) वाल्म्याय  
 (C) तुलसीदास (D) बाणभट्ट
124. 'सूरसागर' कृति के रचयिता निम्नलिखित में से कौन हैं ?  
 (A) सूरदास (B) केशवदास  
 (C) रसखान (D) परीम

125. भाग ज्ञात कीजिए।

$$5.061 + 3.98 + 0.7034 + 7.6 + 0.3 + 2$$

Evaluate

$$5.061 + 3.98 + 0.7034 + 7.6 + 0.3 + 2$$

(A) 19.6440 (B) 19.6444

(C) 19.6476 (D) 19.6467

126. सबसे छोटी संख्या जो एक पूर्ण वर्ग है और संख्याओं 4, 10 और 12 में से प्रत्येक से विभाज्य है।

The least number which is a perfect square and is divisible by each of the numbers 4, 10 and 12 is

(A) 2500 (B) 1600

(C) 400 (D) 900

127. दो संख्याएँ 3:5 के अनुपात में हैं। यदि प्रत्येक में से 6 घटा दिया जाए, तो नई संख्याएँ 3:17 के अनुपात में हो जाती हैं। छोटी संख्या है

Two numbers are in the ratio of 3:5. If 6 is subtracted from each, the new numbers are in the ratio 9:17. The smaller number is

(A) 20 (B) 24 (C) 12 (D) 40

128. यदि A, B का 250% है, तो B, (A + B) का कितना प्रतिशत है?

If A is 250% of B, then B is what percent of (A + B)?

(A) 40% (B)  $66\frac{2}{3}\%$

(C)  $33\frac{1}{3}\%$  (D)  $28\frac{4}{7}\%$

129. संख्या 323 में हैं

(A) कोई अभाज्य गुणनखंड नहीं

(B) दो अभाज्य गुणनखंड

(C) तीन अभाज्य गुणनखंड

(D) चार अभाज्य गुणनखंड

The number 323 has

(A) No prime factors

(B) Two prime factors

(C) Three prime factors

(D) Four prime factors

130. सरल कीजिए :  $108 + 36 \times \frac{1}{4} + \frac{1}{5} \times \frac{1}{4}$

$$\text{Simplify : } 108 + 36 \times \frac{1}{4} + \frac{1}{5} \times \frac{1}{4}$$

(A) 6/5 (B) 4/5

(C) 15/21 (D) 17/20

131. अभिशेक, बिमल और चिन्मय साझेदारी में शामिल होते हैं। अभिशेक, बिमल के निवेश से 3 गुना अधिक निवेश करता है और बिमल, चिन्मय द्वारा किये गये निवेश का 2/3 निवेश करता है। वर्ष के अंत में, अर्जित लाभ ₹ 5,500 है। चिन्मय का हिस्सा कितना है?

Abhishek, Bimal and Chinmay enter into partnership. Abhishek invests 3 times as much as Bimal invests and Bimal invests 2/3<sup>rd</sup> of what Chinmay invests. At the end of the year, the profit earned is ₹ 5,500. What is the share of Chinmay?

(A) ₹ 2,500 (B) ₹ 1,000

(C) ₹ 3,000 (D) ₹ 1,500

132. एक आदमी एक वस्तु को 25% के लाभ पर बेचता है। यदि उसने इसे 20% कम पर खरीदा होता और इसे ₹ 12.60 कम में बेचा होता, तो उसे 30% का लाभ होता। वस्तु का क्रय मूल्य ज्ञात कीजिये।

A man sells an article at a profit of 25%. If he had bought it at 20% less and sold it for ₹ 12.60 less, he would have gained 30%. Find the cost price of the article.

(A) ₹ 60 (B) ₹ 55 (C) ₹ 45 (D) ₹ 50

133. मिहिर और दीपेश के बीच ₹ 1301 इस प्रकार बाँटिये, ताकि 7 वर्षों के बाद मिहिर की राशि, 9 वर्षों के बाद दीपेश की राशि के बराबर हो, व्याज 4% प्रति वर्ष की दर से संयोजित किया जाता है। मिहिर का हिस्सा कितना है?

Divide ₹ 1301 between Mihir and Dipesh, so that the amount of Mihir after 7 years is equal to the amount of Dipesh after 9 years, the interest being compounded at 4% per annum. What is part of Mihir?

(A) ₹ 676 (B) ₹ 653

(C) ₹ 616 (D) ₹ 620

134. 15, 20, 25, ..... 135 के बीच कितने पद हैं? How many terms are there between 15, 20, 25, ..... 135?

(A) 26 (B) 25

(C) 23 (D) 24

135. एक लॉन आयत के आकार का है जिसकी भुजाओं का अनुपात 2 : 3 है। लॉन का क्षेत्रफल 600 m<sup>2</sup> है। लॉन की चौड़ाई ज्ञात कीजिए।

A lawn is in the form of rectangle having its sides in the ratio 2 : 3. The area of the lawn is 600 m<sup>2</sup>. Find the breadth of the lawn.

(A) 50 m (B) 40 m

(C) 10 m (D) 20 m

136. एक साइकिल चालक 900 मीटर की दूरी 2 मिनट 30 सेकंड में तय करता है। साइकिल चालक की किमी/घंटा में गति कितनी है?

A cyclist covers a distance of 900 m in 2 min 30 sec. What is the speed in km/hr of the cyclist?

(A) 8.7 (B) 18.6

(C) 1.67 (D) 21.6

137. तीन संख्याओं में से दूसरी, पहली से दोगुनी है और तीसरी से भी तीन गुनी है। यदि तीनों संख्याओं का औसत 66 है, तो सबसे छोटी संख्या ज्ञात कीजिए।

Of the three numbers, second is twice the first and is also thrice the third. If the average of the three numbers is 66, find the smallest number.

(A) 24 (B) 72 (C) 36 (D) 54

138. मोहन और श्याम ₹ 800 के लिए एक काम करते हैं। मोहन अकेले इसे 6 दिनों में कर सकता है जबकि श्याम अकेले इसे 8 दिनों में कर सकता है। काम की मदद से, वे इसे 3 दिनों में पूरा करते हैं। श्याम का हिस्सा ज्ञात कीजिये।

Mohan and Shyam undertake to do a piece of work for ₹ 800. Mohan alone can do it in 6 days while Shyam alone can do it in 8 days. With the help of Ramesh, they finish it in 3 days. Find the share of Shyam.

(A) ₹ 375 (B) ₹ 325

(C) ₹ 250 (D) ₹ 300

प्र. सं. 139 से 143 : निम्नलिखित तालिका का अध्ययन कीजिए प्रश्नों के उत्तर दें।

Study the following table and answer the questions : Number of candidates appeared and qualified in a competitive examination from different states over the years are mentioned in the table.

Q. Nos. 139 to 143 : Study the following table and answer the questions : Number of candidates appeared and qualified in a competitive examination from different states over the years are mentioned in the table.

राज्य / State	वर्ष / Year			
	2001		2002	
	उत्तीर्ण / App.	उत्तीर्ण / Qual.	उत्तीर्ण / App.	उत्तीर्ण / Qual.
A	5000	700	8300	560
B	7500	850	9200	1000
C	6200	750	8600	1000
D	8000	950	6600	1250
E	2500	850	7700	950

राज्य / State	वर्ष / Year			
	2003		2005	
	उत्तीर्ण / App.	उत्तीर्ण / Qual.	उत्तीर्ण / App.	उत्तीर्ण / Qual.
A	7200	900	7000	800
B	8400	950	9500	8600
C	7600	860	8550	1000
D	6600	1000	9800	1210
E	9500	1300	7600	940

139. 2003 में सभी पाँच राज्यों में उपस्थित उम्मीदवारों की कुल संख्या में उत्तीर्ण उम्मीदवारों की कुल संख्या का अनुमानित प्रतिशत कितना है?

The approximate percentage of total number of qualified candidates to the total number of appeared candidates among all the five states in 2003 is

(A) 18% (B) 16% (C) 12% (D) 15%

140. 2001 में सभी राज्यों से उत्तीर्ण उम्मीदवारों की कुल संख्या, 2002 में सभी राज्यों से उत्तीर्ण उम्मीदवारों की कुल संख्या का लगभग कितना प्रतिशत है?

Total number of candidates qualified from all the states in 2001 is approximately what percentage of the total number of candidates qualified from all the states together in 2002?

(A) 82% (B) 80% (C) 71% (D) 76%

141. दिए गए वर्षों के दौरान राज्य D से उपस्थित होने वाले उम्मीदवारों का औसत क्या है?

What is the average of candidates who appeared from state D during the given years?

(A) 9010 (B) 8960

(C) 8710 (D) 8730

33. हल करें :  $2 \times 6 - 12 + 4 + 2 = ?$

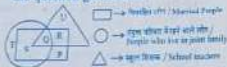
Solve :  $2 \times 6 - 12 + 4 + 2 = ?$   
 (A) 12 (B) 11  
 (C) 9 (D) 10

34. S, A से लंबा है और R, C से लंबा है, लेकिन V से छोटा है। S, C से छोटा है, जो उनमें से सबसे लंबा कौन है ?

S is taller than A and R is taller than C but shorter than V. S is shorter than C, so who is the tallest among them ?  
 (A) V (B) R  
 (C) S (D) C

35. निम्नलिखित अकृति का अध्ययन करें और नीचे दिए गए प्रश्न का उत्तर दें :

Study the following figure and answer the question given below :

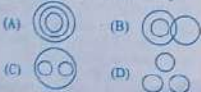


कौन से अक्षर से उन लोगों को दर्शाया जाता है जो संयुक्त परिवार में रहते हैं लेकिन न तो विवाहित हैं और न ही शिक्षक हैं ?

By which letter, the people who live in joint family but are neither married nor teachers are represented ?

- (A) S (B) Q  
 (C) T (D) R

36. निम्नलिखित में से कौन सा ओख बुद्धि, चिंता और शक्ति के बीच संबंध को सबसे अच्छी तरह दर्शाता है ?  
 Which of the following diagrams best indicate the relation between Intelligence, Anxiety and Strength ?



37. एक घनाकार लकड़ी के ब्लॉक की लंबाई 6 सेमी, चौड़ाई 4 सेमी और ऊँचाई 1 सेमी है। 4 सेमी × 1 सेमी व्यास वाले दो फलक काले रंग से रंगे गए हैं। 6 सेमी × 1 सेमी व्यास वाले दो फलक लाल रंग में रंगे गए हैं। 6 सेमी × 4 सेमी व्यास वाले दो फलक हरे रंग में रंगे गए हैं। ब्लॉक को 1 सेमी भुजा वाले 6 बराबर घन (6 सेमी भुजा से), 1 सेमी भुजा वाले 4 बराबर घन (4 सेमी भुजा से) में विभाजित किया गया है।

यदि काले और हरे रंग वाले घनों को हटा दिया जाए तो कितने घन शेष रहेंगे ?

A cuboid shaped wooden block has 6 cm length, 4 cm breadth and 1 cm height. Two faces measuring 4 cm × 1 cm are coloured in black. Two faces measuring 6 cm × 1 cm are coloured in red. Two faces measuring 6 cm × 4 cm are coloured in green. The block is divided into 6 equal cubes of side 1 cm (from 6 cm side), 4 equal cubes of side 1 cm (from 4 cm side).

How many cubes will remain if the cubes having black and green coloured are removed ?

- (A) 16 (B) 12  
 (C) 4 (D) 8

38. निम्नलिखित प्रश्न में, एक शब्द दिया गया है, उसके बाद चार अन्य शब्द दिए गए हैं, किन्हीं से एक दिए गए शब्द के अक्षरों का उपयोग करके नहीं बनाया जा सकता है। वह शब्द ज्ञात करें।

In the following question, a word has been given, followed by four other words, one of which cannot be formed using the letters of the given word. Find that word.

APPLICATION

- (A) POLONIA (B) OPTICAL  
 (C) ANTIC (D) POINT

39. एक फलेली उत्पाही एक रहस्यमय बॉक्स को खोलने के लिए एक कोड को याद करने की कोशिश कर रहा है। वह निम्नलिखित विवरण याद करता है :

- कोड 3 से शुरू होता है।
- कोड 729 पर समाप्त होता है।
- दूसरा अंक पहले अंक का दोगुना है।
- तीसरा अंक दूसरे अंक का आधा है।

अब, इन स्थितियों पर विचार करते हुए, उत्पाही ने रहस्यमय बॉक्स के लिए चार संभावित कोड निष्कर्षित किए हैं। उपयुक्त का पता लगाएँ।

A puzzle enthusiast is trying to remember a code to unlock a mysterious box. He recalls the following details :

- The code starts with 3.
- The code ends with 729.
- The second digit is twice the first digit.
- The third digit is half of the second digit.

Now, considering these conditions, the enthusiast has narrowed down four potential codes for the mysterious box. Find the suitable one.

- (A) 363729 (B) 342729  
 (C) 336729 (D) 324729

40. नीचे प्रश्न में तीन कथन और उनके बाद I और II क्रमांकित दो निष्कर्ष दिए गए हैं। आपको कथनों में दी गई सभी बातों को सत्य मानना है, फिर दोनों निष्कर्षों पर एक साथ विचार करना है और निर्णय लेना है कि उपरोक्त कौन सा/से कथनों में दी गई जानकारी से उचित स्टेप से चर तार्किक रूप से अनुसरण करता/करते हैं/हैं।

कथन :

- रबीन्द्रनाथ टैगोर ने अनेक कविताएँ लिखीं।
- प्रत्येक कवि के पास सौन्दर्यात्मक ज्ञान होता है।
- सौन्दर्यात्मक मूल्यांकित अध्ययन का एक भाग है।

निष्कर्ष :

- रबीन्द्रनाथ टैगोर ने विभिन्न मूल्यांकित अध्ययन किये हैं।
- उन्होंने तर्क और वैदिकता के आधार का पालन किया।

- (A) न तो I और न ही II अनुसरण करता है।  
 (B) I और II दोनों अनुसरण करते हैं।  
 (C) केवल निष्कर्ष I अनुसरण करता है।  
 (D) केवल निष्कर्ष II अनुसरण करता है।

In the question below three statements followed by two conclusions numbered I and II are given. You have to assume everything in the statements to be true, then consider the two conclusions together and decide which of them logically follows beyond a reasonable doubt from the information given in the statements.

Statements :

- Rabindranath Tagore wrote many poems.
- Every poet has aesthetic knowledge.
- Aesthetic is a part of axiological study.

Conclusions :

- Rabindranath Tagore did different axiological study.
  - He followed the base of logic and ethics.
- (A) Neither I nor II follows.  
 (B) Both I and II follow.  
 (C) Only conclusion I follows.  
 (D) Only conclusion II follows.

1. निम्नलिखित अकृतिय में कितने त्रिभुज हैं ?  
How many triangles are there in the following figure ?



- (A) 23 (B) 22 (C) 20 (D) 21

2. एक व्यक्ति घर से पश्चिम की ओर 6 किमी चलता है, फिर दाएँ मुड़ता है और 11 किमी चलता है, फिर दाएँ मुड़ता है और 12 किमी चलता है, फिर दाएँ मुड़ता है और 6 किमी चलता है। वह व्यक्ति अपने घर से कितनी दूरी पर है ?

- (A) 1 किमी (B) 12 किमी  
(C) 17 किमी (D) 23 किमी

A person moves from home position towards west by 6 km, then turns right and moves by 11 km, again turns right and moves by 12 km, again turns right and moves by 6 km. How far that person is from home position ?

- (A) 1 km (B) 12 km  
(C) 17 km (D) 23 km

3. नीचे दिए गए प्रश्न में, एक शब्द-युग्म दिया गया है, उसके बाद विकल्प के रूप में चार शब्द-युग्म दिए गए हैं। आपको वह युग्म चुनना है जिसमें शब्दों के मध्य समान संबंध हो।  
जोड़ा : प्रज्ञान

- (A) मस्तिष्क : कोर्टेक्स (B) अंग : किडनी  
(C) मांसपेशी : रिंग (D) जेनोटा : कर्ट

In the below given question, a pair of words is given, followed by four pairs of words as alternatives. You are required to choose the pair in which the words have the same relationship.

- Gland : Enzyme  
(A) Brain : Cortex  
(B) Organ : Kidney  
(C) Muscle : Spasm  
(D) Generator : Current

4. BGKJ : AGDJ :: DEHI : (?)  
(A) CAGH (B) HGCB  
(C) CBGH (D) ECLJ

5. नीचे दिए गए प्रश्न में एक कथन और उसके बाद I, II, III और IV क्रमांकित चार तर्क शामिल हैं। आपको यह तथ्य करना होगा कि कौन सा/से तर्क 'मजबूत' तर्क है/हैं और कौन सा/से 'कमजोर' तर्क है/हैं और तदनुसार प्रश्न के नीचे दिए गए विकल्पों में से अपना उत्तर चुने।  
कथन : क्या 14 वर्ष की आयु तक के सभी बच्चों के लिए शिक्षा अनिवार्य कर दी जानी चाहिए ?  
तर्क :

- I. हाँ। इससे इन बच्चों से जबतक रोजगार की व्यवस्था की जायत करने में मदद मिलेगी।  
II. हाँ। यह सरल जनसंख्या को शिक्षित बनाने का एक प्रभावी तरीका है।  
III. नहीं। हमारे पास पूरी आबादी को शिक्षित करने के लिए पर्याप्त बुनियादी ढांचा नहीं है।  
IV. हाँ। इससे जीवन स्तर में वृद्धि होगी।

- (A) केवल II और IV मजबूत हैं।  
(B) केवल I और II मजबूत हैं।  
(C) केवल IV मजबूत है।  
(D) केवल II मजबूत है।

Question given below consists of a statement followed by four arguments numbered I, II, III and IV. You have to decide which of the arguments is/are 'strong' argument(s) and which is/are 'weak' argument(s) and accordingly choose your answer from the alternatives given below the question.

Statement : Should education be made compulsory for all children upto the age of 14 years ?

- Arguments :  
I. Yes. This will help to eradicate the system of forced employment of these children.  
II. Yes. This is an effective way to make the entire population educated.  
III. No. We do not have adequate infrastructure to educate the entire population.  
IV. Yes. This would increase the standard of living.  
(A) Only II and IV are strong.  
(B) Only I and II are strong.  
(C) Only IV is strong.  
(D) Only II is strong.

6. नीचे दिए गए प्रश्न में एक कथन और उसके बाद I और II क्रमांकित दो धारणाएँ दी गई हैं। आपको कथन और निम्नलिखित धारणाओं पर विचार करना है और निर्णय लेना है कि कौन सी धारणा(एँ) कथन में अंतर्निहित है/हैं।  
कथन : एक अस्पताल के संग्रहण बाई नं. 4 के बाहर लिखा गया (केवल एबीसी रोग के लिए लागू) - "प्रवेश न करें - एबीसी रोग से संक्रमित होने के जोखिम से बचें"।  
धारणाएँ :

- I. रोग "एबीसी" संक्रामक है।  
II. बाई नं. 4 के सभी ग्राहक एबीसी रोग से पीड़ित हैं।

- (A) न तो I और न ही II अंतर्निहित है।  
(B) I और II दोनों अंतर्निहित हैं।  
(C) केवल धारणा I अंतर्निहित है।  
(D) केवल धारणा II अंतर्निहित है।

In the question below a statement followed by two assumptions numbered I and II is given. You have to consider the statement and the following assumptions and decide which of the assumption(s) is/are implicit in the statement.

Statement : "Do not enter - avoid the risk of getting infected with the ABC disease" - Written outside the quarantine ward no. 4 (meant only for ABC disease) of a hospital.

- Assumptions :  
I. Disease "ABC" is contagious.  
II. All the patients in ward no. 4 suffer from disease ABC.  
(A) Neither I nor II is implicit.  
(B) Both I and II are implicit.  
(C) Only assumption I is implicit.  
(D) Only assumption II is implicit.

- प्र. सं. 7 से 11 : निम्नलिखित जानकारी का ध्यानपूर्वक अध्ययन कीजिए एवं नीचे दिए गए प्रश्नों के उत्तर दीजिए : किसी प्रतिष्ठित कंपनी में पद के लिए निम्नलिखित अर्हताएँ हैं।  
अभ्यर्थी को -

- (a) कम से कम 60% अंकों के साथ इंजीनियरिंग स्नातक होना चाहिए।  
(b) 1 मई, 2006 को कम से कम 21 वर्ष और अधिकतम 25 वर्ष का होना चाहिए।  
(c) कम से कम 55% अंकों के साथ बचपन परीक्षा उत्तीर्ण होना चाहिए।  
(d) ₹ 50,000 की जमा राशि भुगतान करने को तैयार होना चाहिए, जो प्रशिक्षण के उपरान्त वापिस कर दी जाएगी।

तथापि यदि अभ्यर्थी उपरोक्त उल्लिखित मानदण्डों को पूरा करता है, सिवाय :

- I. उपरोक्त (a) में, परन्तु अंतिम सेमेस्टर की परीक्षा दे चुका है और प्रथम सात सेमेस्टर में औसतन न्यूनतम 65% अंक प्राप्त कर चुका है, उसका मामला कंपनी के प्रेसिडेंट को विचार के लिए भेजा जा सकता है।

- II. उपरोक्त (d) में, परन्तु कम से कम ₹ 25,000 की राशि देने को तैयार है और उसने इंजीनियरिंग डिग्री में कम से कम 70% अंक प्राप्त किये हैं, मामला कंपनी के महाप्रबंधक को विचार के लिए भेजा जा सकता है।

निम्नलिखित प्रत्येक प्रश्न में, अभ्यर्थी के विवरण उसके/उसकी अभ्यर्थिता के संबंध में दिए गए हैं। आपको प्रदत्त जानकारी(या सूचनाएँ) पढ़नी है और प्रदत्त सूचनाओं एवं उपरोक्त गत (प्रतिबंधों) के आधार पर उसका/उसकी स्थिति का निर्णय लेना है। आपको निम्नलिखित प्रत्येक प्रश्न में प्रदत्त सूचनाओं के अतिरिक्त अपनी ओर से कुछ भी नहीं मानना है। यह सभी मामलों (विषय) आपको 1 मई, 2006 की तारीख पर दिए गए हैं।

Q. Nos. 7 to 11 : Study the following information carefully and answer the questions given below:

Following are the qualifications for post in a reputed company.

- The candidate must-  
(a) be an Engineering graduate with at least 60% marks.  
(b) be not less than 21 years and not more than 25 years of age as on 1<sup>st</sup> May 2006.  
(c) have passed the selection test with at least 55% marks.  
(d) be willing to pay a deposit of ₹ 50,000, to be refunded on completion of training.

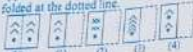
However, if a candidate fulfills the above mentioned criteria, except :

- I. At (a) above, but has appeared for the last semester examination and has obtained an aggregate of minimum 65% marks in first seven semesters, his/her case may be referred to the President of the company.

- II. At (d) above, but is willing to pay an amount of at least ₹ 25,000 and has obtained at least 70% marks at Engineering degree, the case may be referred to the General Manager of the company.

In each of the following questions, details of the candidate are given as regards his/her candidature. You have to read the information provided and decide his/her status based on the conditions given above and the information provided. You are not to assume anything other than the information provided in each of the following questions. All these cases are given to you as on 1<sup>st</sup> May, 2006.

41. चार विकल्पों में से पता लगाएँ कि चारहीँ ओर को बिंदुएँ ठीक व चोंकड़े व पैटर्न कैसा दिखाएँगा।  
Find out from amongst the four alternatives as to how the pattern would appear when the transparent sheet is folded at the dotted line.



- (A) (4) (B) (3)  
(C) (1) (D) (2)

42. A, B का भाई है। C, D का पिता है। E, B की माँ है। A और D भाई हैं। E, C से किस प्रकार संबंधित है ?

- (A) पत्नी (B) भतीजी  
(C) बहन (D) भाभी

A is B's brother. C is D's father. E is B's mother. A and D are brothers. How is E related to C ?

- (A) Wife (B) Niece  
(C) Sister (D) Sister-in-law

43. वह विकल्प चुनें जो दिए गए संयोजन की दर्पण छवि से बराबरी मिलता-जुलता हो।

Choose the alternative which closely resembles the mirror image of the given combination.

**REASONING**

- (A) Ɔ190SASR (B) ƆRARS0IN0  
(C) ƆRARS0IN0 (D) Ɔ190SASR

44. पता लगाएँ कि आकृति (X) में दिए गए टुकड़ों में (1), (2), (3) और (4) में से कौन सी आकृति बनवाई जा सकती है।

Find out which of the figures (1), (2), (3) and (4) can be formed from the pieces given in figure (X).



- (X) (1) (2) (3) (4)  
(A) (4) (B) (3)  
(C) (1) (D) (2)

45. एक टोकरी में बारह दर्जन सेब हैं। दो दर्जन बाद में जोड़े जाते हैं। उस सेब खराब हो गए, जिन्हें हटा दिया गया है। शेष का दो टोकरीयों में समान रूप से स्थानांतरित किया जाता है। प्रत्येक में कितने हैं ?

There are twelve dozen of apples in a basket. Two dozen are added later. Ten apples got spoiled and are removed. The remaining are transferred equally into two baskets. How many are there in each ?

- (A) 168 (B) 158  
(C) 79 (D) 89

46. आप की एक टोकरी में प्रत्येक 30 आमों के साथ एक खराब आम होता है। यदि प्रत्येक 4 खराब हुए आमों में से 3 को बिना योग्य नहीं माना जाता है, और टोकरी में 12 आम बिना योग्य नहीं हैं, तो टोकरी में कितने आम हैं ?

A crate of mangoes contains one bruised mango for every 30 mangoes in the crate. If 3 out of every 4 bruised mangoes are considered unsalable, and there are 12 unsalable mangoes in the crate, then how many mangoes are there in the crate ?

- (A) 480 (B) 420  
(C) 240 (D) 320

47. निम्नलिखित में से कौन सा विकल्प नीचे दिए गए शब्दों का सार्थक क्रम होगा ?

1. जन्म 2. मृत्यु 3. अंत्येष्टि 4. विवाह

5. शिवा

Which of the following option would be meaningful order of the following words ?

1. Birth 2. Death 3. Funeral  
4. Marriage 5. Education  
(A) 4, 5, 3, 1, 2 (B) 2, 3, 4, 5, 1  
(C) 1, 3, 4, 5, 2 (D) 1, 5, 4, 2, 3

48. वह आकृति चुनें जो अन्य से भिन्न है। Choose the figure which is different from the rest.



- (1) (2) (3) (4) (5)  
(A) (4) (B) (3)  
(C) (1) (D) (2)

49. निम्नलिखित में से कौन सा दिन "अंतर्राष्ट्रीय श्रमिक दिवस" के रूप में मनाया जाता है ?

- (A) 31 दिसंबर (B) 25 नवंबर  
(C) 16 अगस्त (D) 1 मई

Which of the following days is celebrated as "International Workers Day" ?  
(A) 31<sup>st</sup> December (B) 25<sup>th</sup> November  
(C) 16<sup>th</sup> August (D) 1<sup>st</sup> May

50. निम्नलिखित में से कौन सा अम्ल पालक में मौजूद होता है ?

- (A) ऑक्सेलिक एसिड (B) सिट्रिक एसिड  
(C) ऐसीटिक एसिड (D) लैक्टिक एसिड

Which of the following Acid is present in Spinach ?

- (A) Oxalic Acid (B) Citric Acid  
(C) Acetic Acid (D) Lactic Acid

51. "सोल्डियरिंग विद डिग्निटी" निम्नलिखित में से किस दिग्गज भारतीय सैन्य अधिकारी पर लिखा गया उपन्यास है ?

- (A) वीवीवी के.एन. विक्रम बत्रा  
(B) फ़िल्ड मार्शल के.एम. करिअप्पा  
(C) सीडीएस बिपिन रावत  
(D) फ़िल्ड मार्शल सैम मानेशका

"Soldiering with Dignity" is the novel written on which of the following Indian Military Salwar ?

- (A) PVC Capt. Vikram Batra  
(B) Field Marshal K. M. Cariappa  
(C) CDS Bipin Rawat  
(D) Field Marshal Sam Manekshaw

52. भारतीय संविधान के अनुसार, अनुच्छेद 14-18 निम्नलिखित में से किस अधिकार से संबंधित हैं ?

- (A) सांविधानिक उपचारों का अधिकार  
(B) शोषण के विरुद्ध अधिकार  
(C) धर्म की स्वतंत्रता का अधिकार  
(D) समता का अधिकार

According to Indian Constitution, Articles 14-18 deals with which of the following rights ?

- (A) Right to Constitutional Remedies  
(B) Right against Exploitation  
(C) Right to Freedom of Religion  
(D) Right to Equality

53. भौतिक अनुसंधान प्रयोगशाला (मुख्य परिसर) निम्नलिखित में से कहाँ स्थित है ?

- (A) मैसूरु (B) अहमदाबाद  
(C) बेंगलुरु (D) पुणे

The Physical Research Laboratory (Main Campus) is situated at which of the following places ?

- (A) Mysuru (B) Ahmedabad  
(C) Bengaluru (D) Pune

54. उत्तर प्रदेश में वृद्धों का शक्ति (डब्ल्यूपीएल) के लिए संपर्क नंबर क्या है ?

- What is the contact number for Women Power Line (WPL) in Uttar Pradesh ?  
(A) 1044 (B) 114  
(C) 1090 (D) 105

55. "मामलपुरम उत्सव" निम्नलिखित में से किस राज्य का त्योहार है ?

- (A) गुजरात (B) कर्नाटक  
(C) ओडिशा (D) तमिलनाडु

"Mamallapuram Utsav" is a festival of which of the following states ?

- (A) Gujarat (B) Karnataka  
(C) Odisha (D) Tamil Nadu

56. कॉर्पोरेट्स को राष्ट्रीय विकास में प्रभावी योगदानकर्ता बनाने के लिए, नियामक और प्रशासनिक ढाँचे की जिम्मेदारी भारत के निम्नलिखित में से किस मंत्रालय के अंतर्गत आती है ?

- (A) सहकारिता मंत्रालय  
(B) कॉर्पोरेट मामलों का मंत्रालय  
(C) अजरास और शहरी मामलों का मंत्रालय  
(D) योजना मंत्रालय

The responsibility of the regulatory and administrative framework for corporates in order to make them effective contributors to national development falls under which of the following Ministry of India ?

- (A) Ministry of Co-operation  
(B) Ministry of Corporate Affairs  
(C) Ministry of Housing and Urban Affairs  
(D) Ministry of Planning

22. समुदायिक पुलिसिंग का कौन सा पहलू आपको सबसे अधिक प्रभावित करता है ?

- (A) समुदाय द्वारा रिपोर्ट की गई आपात स्थितियों पर त्वरित और कुशलता से प्रतिक्रिया करना।  
(B) निगरानी के लिए ड्रोन और कैमरे जैसी उन्नत तकनीक का उपयोग करना।  
(C) अपराध को रोकने के लिए पुलिस की दृश्यता और गति बढ़ाना।  
(D) समस्याओं को ठीक करने के लिए निवासियों के साथ विश्वास और तालमेल बनाना।

Which aspect of community policing resonates you most ?

- (A) Responding quickly and efficiently to emergencies reported by the community.  
(B) Using advanced technology like drones and cameras for surveillance.  
(C) Increasing police visibility and patrols to deter crime.  
(D) Building trust and rapport with residents to prevent problems.

23. एक पुलिस अधिकारी के रूप में, आप एक अपराधिक जांच में शामिल हैं। निम्नलिखित में से उस दस्तावेज़ का नाम क्या है जिसे आपको जांच पूरी करने के बाद अदालत में जमा करना होगा ?

- (A) जमानत आवेदन  
(B) गिरफ्तारी वारंट  
(C) प्रथम सूचना रिपोर्ट  
(D) आरोप पत्र

As a police officer, you are involved in a criminal investigation. Which of the following is the name of the document that you have to submit to the court after completing the investigation ?

- (A) Bail Application  
(B) Arrest Warrant  
(C) First Information Report  
(D) Charge Sheet

GL-4

24. एक पुलिस अधिकारी के रूप में, कुछ समूह पारंपरिक धार्मिक प्रथाओं के विपरीत, एलजीबीटीक्यू अधिकारों को कायम रखने वाले कानूनों में संशोधन की मांग करते हैं। आपको :

- (A) मानवाधिकार आयोगों में सीधे नियुक्त होने वाले प्रतिनिधियों को नियुक्त करना चाहिए।  
(B) धार्मिक सिद्धांतों (मान्यताओं) में सामंजस्य बिटाने के लिए समुदायिक बैठकें (चर्चा) करानी चाहिए।  
(C) समावेशी जीवनशैली को सहायक बनाने वाले स्थानीय जागरूकता अभियानों का नेतृत्व करना चाहिए।  
(D) हिंसा की धमकी देने वाले कट्टरपंथी तत्वों को निरोधक गिरफ्तारी करनी चाहिए।

As a police officer, certain groups demand amendments in laws upholding LGBTQ rights, against traditional religious sentiments. You should :

- (A) depute human rights commissions directly engaging representatives.  
(B) stable community interactions harmonizing religious doctrines.  
(C) lead localized awareness campaigns empowering inclusive lifestyles.  
(D) make preventive arrests of radical fringe elements threatening violence.

25. प्रश्नचिह्न (?) के स्थान पर उपयुक्त विकल्प खोजें।

रूस : मास्को :: ग्रीस : (?)

- (A) टोक्यो (B) लंदन  
(C) एथेंस (D) W.D.C.

Find suitable alternative in place of question mark (?).

- Russia : Moscow :: Greece : (?)  
(A) Tokyo (B) London  
(C) Athens (D) W.D.C.

26. एक निश्चित कूट भाषा में, "ROMAN" को "IFDAE" के रूप में लिखा जाता है। उसी कूट में "WATER" को कैसे लिखा जाएगा ?

In a certain code language, "ROMAN" is written as "IFDAE". How would "WATER" be written in that code ?

- (A) AEBEI (B) IFAEB  
(C) EABEI (D) EIBAE

27. एक व्यक्ति घर से पूर्व की ओर 10 किमी चलता है, फिर दाएँ मुड़ता है और 5 किमी चलता है, फिर से दाएँ मुड़ता है और 11 किमी चलता है, फिर से दाएँ मुड़ता है और 5 किमी चलता है, फिर से बाएँ मुड़ता है और 1 किमी चलता है। वह व्यक्ति अपने घर से कितनी दूरी पर है ?

- (A) 6 किमी (B) 2 किमी  
(C) 15 किमी (D) 16 किमी

A person moves from home position towards east by 10 km, then turns right and moves by 5 km, again turns right and moves by 11 km, again turns right and moves by 5 km, again turns left and moves by 1 km. How far that person is from home position ?

- (A) 6 km (B) 2 km  
(C) 15 km (D) 16 km

28. निम्नलिखित प्रश्न में कुछ शब्द दिये गये हैं। उनमें विषम को छोड़कर कुछ समय विशेषताएं हैं। आपको इनमें से विषम को ढूँढना है।

- (A) बौ (B) स्तन  
(C) डेक (D) बच्चे

In following question, some words are given. They have some common features except the odd one. You are required to find the odd one out.

- (A) Bow (B) Stern  
(C) Deck (D) Quay

29. दिए गए विकल्पों में से वह सही विकल्प चुनें जो मूलशब्द को पूरा करेगा।

Choose the correct alternative from the given that will complete the series.

- 1000, 759, 618, 545, 514, (?)  
(A) 504 (B) 507  
(C) 505 (D) 502

30. एक घड़ी दोपहर (noon) के समय शुरू की जाती है। 5 बजकर 20 मिनट पर, घंटे की सूई घूम चुकी होती है।

A clock is started at noon. By 20 minutes past 5, the hour hand has turned through

- (A) 160° (B) 155°  
(C) 145° (D) 150°

31. अपने बच्चों में, गंगा के पसंदीदा (मम और रेखा) हैं। रेखा, शरद की माँ है, जिन्हें उनके मामा मिथुन सबसे ज्यादा प्यार करते हैं। परिवार के मुखिया रामलाल हैं, जिनके उतराधिकारी उनके बेटे गोपाल और मोहन हैं। गोपाल और गंगा की शादी को 35 साल हो गए हैं और उनके 3 बच्चे हैं। मिथुन और मोहन के बीच क्या रिश्ता है ?

- (A) प्रतीजा (B) भाई  
(C) अंकल (D) बेटा

Among her children, Ganga's favourites are Ram and Rekha. Rekha is the mother of Sharad, who is loved most by his uncle Mithun. The head of the family is Ram Lal, who is succeeded by his sons Gopal and Mohan. Gopal and Ganga have been married for 35 years and have 3 children. How is Mithun related to Mohan ?

- (A) Nephew (B) Brother  
(C) Uncle (D) Son

32. यदि "SOUVENIR" शब्द के पहले, तीसरे, पाँचवें और आठवें अक्षरों का उपयोग करके एक सार्थक अंग्रेजी शब्द बनाया है (प्रत्येक अक्षर का केवल एक बार उपयोग किया जाना है) तो ऐसे कितने शब्द बनाए जा सकते हैं ?

- (A) 3 से अधिक (B) 3  
(C) 1 (D) 2

If a meaningful English word has to be formed using 1<sup>st</sup>, 3<sup>rd</sup>, 5<sup>th</sup> and 8<sup>th</sup> letters of the word (each letter to be used once only) "SOUVENIR", then how many such words can be formed ?

- (A) more than 3 (B) 3  
(C) 1 (D) 2

GL-4



7. माही 68% अंकों के साथ 2003 में उत्तीर्ण एक आईटी इंजीनियर है। इंजीनियरिंग की डिग्री हासिल करने के बाद उसने फाइनेंस में विशेषज्ञता के साथ एमबीए किया है। उसने 60% अंकों के साथ चयन परीक्षा उत्तीर्ण की है। वह ₹ 50,000 की जमा राशि का भुगतान कर सकता है। उसकी जन्मतिथि 15 सितंबर, 1982 है।
- (A) कंपनी प्रेसिडेंट को भेजा जाएगा।  
(B) महाप्रबंधक को भेजा जाएगा।  
(C) चयन किया जाएगा।  
(D) चयन नहीं किया जाएगा।

Mahi is an IT engineer passed out in 2003 with 68% marks. After getting the engineering degree, she has done MBA with specialization in Finance. She has cleared the selection test with 60% marks. She can pay the deposit of ₹ 50,000. Her date of birth is 15<sup>th</sup> September, 1982.

- (A) To be referred to Company President.  
(B) To be referred to General Manager.  
(C) To be selected.  
(D) Not to be selected.
8. दीपेश इंजीनियरिंग डिग्री परीक्षा के आखिरी सेमेस्टर में शामिल हुआ है और कम से कम 80% अंक हासिल करने की उम्मीद कर रहा है। पहले सात सेमेस्टर्स तक उसका कुल स्कोर 75% है। उसने अभी 21 साल की उम्र पूरी की है। उसने चयन परीक्षा में 66% अंक प्राप्त किए हैं और जमा के रूप में ₹ 50,000 की राशि का भुगतान करने के लिए तैयार है।
- (A) कंपनी प्रेसिडेंट को भेजा जाएगा।  
(B) महाप्रबंधक को भेजा जाएगा।  
(C) चयन किया जाएगा।  
(D) चयन नहीं किया जाएगा।

Deepesh has appeared for the last semester of engineering degree exam and is hoping to score at least 80%. His aggregate score upto first seven semesters is 75%. He has just completed 21 years of age. He has scored 66% marks in the selection test and is ready to pay an amount of ₹ 50,000 as deposit.

- (A) To be referred to Company President.  
(B) To be referred to General Manager.  
(C) To be selected.  
(D) Not to be selected.

9. श्रेया ने जून, 2005 में 79% अंकों के साथ केमिकल इंजीनियरिंग की डिग्री पास की। वह चयन परीक्षा में शामिल हुईं, जिनसे उसने 70% अंकों के साथ उत्तीर्ण किया। उसकी जन्मतिथि 28 जून, 1983 है। वह ₹ 50,000 देने की स्थिति में नहीं है, लेकिन जमा के रूप में ₹ 30,000 का भुगतान करने की व्यवस्था करेगी।
- (A) डेटा अपर्याप्त है।  
(B) महाप्रबंधक को भेजा जाएगा।  
(C) चयन किया जाएगा।  
(D) चयन नहीं किया जाएगा।

Shreya has passed out Chemical Engineering Degree in June, 2005 with 79% marks. She appeared for the selection test which she cleared with 70% marks. Her date of birth is 28<sup>th</sup> June 1983. She is not in a position to pay ₹ 50,000 but will arrange to pay ₹ 30,000 as deposit.

- (A) Data inadequate.  
(B) To be referred to General Manager.  
(C) To be selected.  
(D) Not to be selected.

10. स्वाम मेकेनिकल इंजीनियरिंग की अंतिम सेमेस्टर परीक्षा में शामिल हुआ है और परीणाम की प्रतीक्षा है। उसने पहले सात सेमेस्टर्स में ने प्रत्येक में प्रथम श्रेणी हासिल की। उसने हाल ही में 22 साल की उम्र पूरी की है। उसे जमा के रूप में ₹ 50,000 की राशि नहीं है। उसने 58% अंकों के साथ चयन परीक्षा उत्तीर्ण की है।
- (A) डेटा अपर्याप्त है।  
(B) कंपनी प्रेसिडेंट को भेजा जाएगा।  
(C) चयन किया जाएगा।  
(D) महाप्रबंधक को भेजा जाएगा।

Shyam has appeared for the last semester examination of Mechanical Engineering and the results are awaited. He secured first class in each of the first seven semesters. He has recently completed 22 years of age. He has no problem in paying the required amount of ₹ 50,000 as deposit. He has passed the selection test with 58% marks.

- (A) Data inadequate.  
(B) To be referred to Company President.  
(C) To be selected.  
(D) To be referred to General Manager.

11. निलय एक इलेक्ट्रिकल इंजीनियर है, जिसने 2003 में 21 साल की उम्र में अपनी डिग्री परीक्षा उत्तीर्ण की। उसने डिग्री परीक्षा में 76% अंक और चयन परीक्षा में 72% अंक प्राप्त किये। वह जमा के रूप में ₹ 50,000 की राशि का भुगतान कर सकता है।
- (A) कंपनी प्रेसिडेंट को भेजा जाएगा।  
(B) महाप्रबंधक को भेजा जाएगा।  
(C) चयन किया जाएगा।  
(D) चयन नहीं किया जाएगा।

Nilay is an Electrical Engineer, who passed out his degree exam in 2003 at the age of 21 years. He obtained 76% marks at degree exam and 72% marks in the selection test. He can pay the amount of ₹ 50,000 as deposit.

- (A) To be referred to Company President.  
(B) To be referred to General Manager.  
(C) To be selected.  
(D) Not to be selected.

12. आप एक पुलिस अधिकारी के रूप में तैनात हैं; एक व्यथित पिता आपके पास आता है और कहता है कि उसकी 23 वर्षीय बेटी अपने पुरुषाभिनेता के साथ भाग गई है। सुप्रीम कोर्ट के निर्देशों के अनुसार, आपको:
- (A) निपटान के लिए चिकाबत को ग्राम सभा के पास भेजना चाहिए।  
(B) पुरुषाभिनेता को फुसलाने के आरोप में गिरफ्तार करना चाहिए।  
(C) अपहरण का मामला दर्ज करके जांच करनी चाहिए।  
(D) यदि सहमति हो तो आपत्तिका आरोप के बिना सुलह को समर्थन करना चाहिए।

You are stationed as a police officer; a distressed father approaches you saying his 23 year old daughter has eloped with her boyfriend. As per Supreme Court directives, you should:

- (A) refer complaint to village council for settlement.  
(B) arrest the boyfriend on charges of enticement.  
(C) file a kidnapping case and investigate.  
(D) support reconciliation without criminal charge if consensual.

13. आप एक पुलिस अधिकारी के रूप में तैनात हैं; प्रबंधन के साथ वेतन विवाद को लेकर उत्तेजित श्रमिक संघों ने आवश्यक सेवाएं बंद करने की धमकी दी है। आपको:
- (A) अवैध हड़ताल कार्रवाई के लिए जुर्माना और मुल्क लगाना चाहिए।  
(B) महाप्रबंधक को बुनियादी ढांचे को अवरुद्ध करने के प्रयासों को बलपूर्वक रोकना चाहिए।  
(C) व्यवधान की धमकियों के लिए, युनियन नेताओं को तुरंत गिरफ्तार करना चाहिए।  
(D) पणधारकों के बीच विवाद समाधान संवाद में सहायता करनी चाहिए।

You are stationed as a police officer; agitated labour unions threaten to stop essential services over wage disputes with management. You should:

- (A) impose fines and charges for illegal strike action.  
(B) forcibly stop attempts to block critical infrastructure.  
(C) arrest union leaders immediately for disruption threats.  
(D) assist dispute resolution dialogue between stakeholders.

14. आप एक पुलिस अधिकारी के रूप में तैनात हैं; आपके कट्टरपंथी संगठनों से उत्पीड़न की धमकियों का सामना कर रहे एक अंतर-धार्मिक जोड़े के बारे में खुफिया जानकारी मिलती है। आपको:
- (A) प्रक्रियाओं के अंतर्गत उन्हें सुरक्षा अधिकारियों के पास भेजना चाहिए।  
(B) उनके स्वेच्छिक भौतिक (शारीरिक) अस्वास्थ्य का सुझाव देना चाहिए।  
(C) जोड़े को संरक्षा कर (घेरा) और सुरक्षित आवागमन प्रदान करना चाहिए।  
(D) जोड़े को सार्वजनिक बातचीत (संपर्क) से बचने के लिए सलाह देनी चाहिए।

You are stationed as a police officer; you receive intelligence of an inter-religious couple facing harassment threats from fringe outfits. You should:

- (A) refer them to protection officers as per procedures.  
(B) suggest their voluntary physical separation.  
(C) provide security cover and safe transit for the couple.  
(D) counsel the couple to avoid public interactions.

15. आप एक पुलिस अधिकारी के रूप में तैनात हैं; अपने क्षेत्रधिकार में अज्ञात हत्याओं की गूँथला को सुलझाने के लिए, आपको:
- (A) स्मैकअपके ऑफिशियल के प्रयोग से व्यवहारीक डेटा का उपयोग करना चाहिए।
  - (B) बेहतर पहचान सैन का उपयोग करके सीसीटीवी कैमरे का डेटा मान (छायाचित्र) करना चाहिए।
  - (C) किमिक अपराध विभाग वाले सभी मौजूदा दौकियों से सुझाव लेना चाहिए।
  - (D) संपूर्ण क्षेत्रीय आबादी की पूर्ण डीपथ प्रोफाइलिंग करना चाहिए।
- You are stationed as a police officer; to solve a series of undetected homicides in your jurisdiction, you should:
- (A) study behavioural patterns through psychological profiling
  - (B) data mine CCTV cameras using facial recognition scans
  - (C) question all existing convicts with violent crime history
  - (D) complete DNA profiling of entire regional population
16. आपको एक उद्योगपति द्वारा कंप्यूटर धोखाधड़ी की जांच विभागत में मिली है जो व्यवसागत निरुपन और संग्रहण की शक्यता की परीक्षा करता है। आपको:
- (A) मामले को बंद घोषित करते हुए गुप्त रूप से निरुपन (सम्झौता) को स्वीकार कर लेना चाहिए।
  - (B) किसी भी अन्य गवाह या रिक्वैस्ट की आगे और जांच को टालना चाहिए।
  - (C) कानूनी जांच के तहत दौरी तरहए जाने वाले सचुवा से आंशिक रूप से हटना चाहिए।
  - (D) धोखाधड़ी की पूरी और निष्पक्ष जांच करने के लिए प्रतिबद्ध होना चाहिए।
- You inherited investigation into corporate fraud by an industrialist who then offers a personal settlement and closure help. You should:
- (A) secretly accept settlement while declaring case closed
  - (B) avoid examining any further witnesses or records
  - (C) partly deviate from incriminating evidences under legal scrutiny
  - (D) commit to investigate the fraud fully and impartially

17. आप एक ग्रामीण पुलिस स्टेशन में सब-इंस्पेक्टर हैं। आप पिछले पांच वर्षों से उनी स्टेशन में काम कर रहे हैं और स्थानीय लोगों और प्रशासन के साथ आपका अच्छा तालमेल बन गया है। हालांकि, फेरबदल के कारण, आपको एक शहरी पुलिस स्टेशन में स्थानांतरित कर दिया जाता है जहाँ आपको विभिन्न प्रकार की समस्याओं और लोगों से निपटना पड़ता है। आपको लगता है कि यह एक कठिन और तनावपूर्ण बदलाव है। आपको:
- (A) स्थानांतरण को अनिच्छा से स्वीकार करना चाहिए और जल्द ही ग्रामीण स्टेशन पर वापस आने की उमीद करनी चाहिए।
  - (B) किसी अन्य ग्रामीण स्टेशन पर स्थानांतरण की माँग करनी चाहिए जहाँ आप अपना काम और रुचियाँ जारी रख सकें।
  - (C) स्थानांतरण रह करने का अनुरोध करना चाहिए और ग्रामीण स्टेशन में अपने कामों और उपलब्धियों का हवाला देना चाहिए।
  - (D) स्थानांतरण को अपने करियर के विकास के एक हिस्से के रूप में स्वीकार करना चाहिए और खुद को शहरी चुनौतियों के लिए तैयार करना चाहिए।
- You are a sub-inspector in a rural police station. You have been working in the same station for the past five years and have developed a good rapport with the local people and the administration. However, due to a reshuffle, you are transferred to an urban police station where you have to deal with a different set of problems and people. You feel that this is a difficult and stressful change. You should:
- (A) accept the transfer reluctantly and hope to get back to the rural station soon.
  - (B) seek a transfer to another rural station where you can continue your work and interests.
  - (C) request for a cancellation of the transfer and cite your performance and achievements in the rural station.
  - (D) accept the transfer as a part of your career growth and prepare yourself for the urban challenges.

18. पहचान की चोरी और प्रतिरूपण अपराधों की जांच करते समय, आपको:
- (A) टूल के बांट के तहत छोटे गप संदियों की आईटी संग्रहियों का विश्लेषण करना चाहिए।
  - (B) बैंक जानकारी निकालने के लिए पहिंती को व्यक्तिगत रूप से जानकारी होने का नाटक करके कॉल करना चाहिए।
  - (C) डार्क वेब पर आपराधिक खरीदारों के रूप में अभिनय करके एथिकल हैकिंग जाल स्थापित करना चाहिए।
  - (D) किसी भी पुनर्ग्रहण किशिंग किट को रिस्क-इजीनियर करने के लिए अदालत से अधिकार प्राप्त करना चाहिए।
- When investigating identity theft and impersonation crimes, you should:
- (A) analyze IT assets of suspects searched under warrants for tools.
  - (B) personally call victims pretending knowledge to extract bank information.
  - (C) setup ethical hacking traps portraying as criminal buyers on dark web.
  - (D) obtain court authority to reverse-engineer any phishing kits retrieved.
19. आपके नेतृत्व में एक बंधक संकट ऑपरेशन महत्वपूर्ण चरण में प्रवेश करता है तभी आपका बच्चा जानलेवा दुर्घटना का शिकार हो जाता है। आपको:
- (A) टीम के बीच ऑपरेशन की जिम्मेदारी के कार्यों को रणनीतिक रूप से बांटना चाहिए।
  - (B) ऑपरेशन सुलझने (समाप्त) तक परिवार केंद्रित व्यक्तिगत समाचार छुपाना चाहिए।
  - (C) अपने डिप्टी को परिचालन रणनीति सौंपना चाहिए, लेकिन अधिकार अपने पास रखना चाहिए।
  - (D) निपुण सेकंड-इन-कमांड को पूरी तरह से बागडोर सौंपना चाहिए।
- A hostage crisis operation you lead enters critical stage when your child meets a life-threatening accident. You should:
- (A) strategically allocate areas of operational responsibility among team.
  - (B) conceal personal news until operation resolved before focusing on family.
  - (C) entrust deputy with operational strategy but retain authority.
  - (D) fully handover reins to accomplished second-in-command.

20. एक पुलिस अधिकारी के रूप में, कुछ जनजातियाँ गलती से आदतन अपराधी समझे जाने की शिकायत करती हैं। आपको:
- (A) बलात्क वकूलनामे (स्वीकारोक्ति) की निगरानी के लिए निगरानी विकास प्रक्रिया स्थापित करना चाहिए।
  - (B) राक्षसगिता दृष्टिकोण को पुनः व्यवस्थित (स्थापित) करने के लिए समुदायों के साथ बैठकें करना चाहिए।
  - (C) पारंपरिक मान्यताओं को पुनर्जीवित करने के लिए बड़े पैमाने पर परामर्श कार्यक्रम लागू करना चाहिए।
  - (D) बंचित जनजातियों के अधिकारियों को निरुपक करने हुए विशिष्टता कोटा लागू करना चाहिए।
- As a police officer, certain tribes complain of being wrongly deemed habitual offenders. You should:
- (A) setup watchdog complaint cells to monitor forced confessions.
  - (B) table meetings with communities to re-align engagement approaches.
  - (C) implement mass counselling programs to recent traditional beliefs.
  - (D) enforce diversity quotas employing officers from marginalized tribes.
21. एक पुलिस अधिकारी के रूप में, विधवा, तलाकशुदा या परिवर्तित महिलाओं को समान संपत्ति अधिकारों से बंचित करते कुछ धार्मिक रीति-रिवाजों को उठाया जाता है। आपको:
- (A) यदि समुदाय में मानदंड लंबे समय से स्वीकृत हैं तो मामलों को तुरंत खारिज कर देना चाहिए।
  - (B) लैंगिक अधिकारों पर जिला जागरूकता अभियान चलाना चाहिए।
  - (C) अनुचित पारंपरिक रीति-रिवाजों का स्थान लेने वाले कानूनों का हवाला देना चाहिए।
  - (D) रेटों को कम करने के लिए मामलों को फास्ट ट्रैक अदालतों में भेजना चाहिए।
- As a police officer, certain religious customs are raised denying equal property rights for widowed, divorced or abandoned women. You should:
- (A) dismiss cases outright if norms have been long accepted in the community.
  - (B) run a district awareness campaigns drive on gender rights.
  - (C) cite laws superseding unfair traditional customs.
  - (D) refer cases to fast track courts minimizing delays.

70. हाल ही में, प्रधानमंत्री ने निम्नलिखित में से किस रेलवे स्टेशन से नई 'अमृत भारत' ट्रेनों को हरी झंडी दिखाई ?  
(A) हरिद्वार (B) अयोध्या  
(C) वाराणसी (D) नई दिल्ली  
Recently, The Prime Minister flagged off the new 'Amrit Bharat' trains from which of the following railway station ?  
(A) Haridwar (B) Ayodhya  
(C) Varanasi (D) New Delhi
71. निम्नलिखित में से किस राज्य के ब्लॉक ने नीति आयोग द्वारा घोषित एम्बेडेजमेंट ब्लॉक प्रोग्राम (एबीपी) की पहली डेल्टा ब्लॉक में रथ स्थान हासिल किया ?  
(A) हरियाणा (B) महाराष्ट्र  
(C) उत्तर प्रदेश (D) तेलंगाना  
Which of the following state's block secured the second position in the first delta rankings of Aspirational Blocks Programme (ABP) announced by NITI Aayog ?  
(A) Haryana (B) Maharashtra  
(C) Uttar Pradesh (D) Telangana
72. कप्तान-वुडेन बल्ब क्षेत्र में भारतीय यात्रीको को निकालने के लिए भारत द्वारा शुरू किए गए ऑपरेशन का नाम निम्नलिखित में से कौन सा है ?  
(A) ऑपरेशन राक्षस  
(B) ऑपरेशन अस्कांधा  
(C) ऑपरेशन सुजाय  
(D) ऑपरेशन गंगा  
Which of the following is the name of the operation launched by India to evacuate Indian nationals from Russia-Ukraine conflict zone ?  
(A) Operation Rakshas  
(B) Operation Ashwagandha  
(C) Operation Sujay  
(D) Operation Ganga
73. हाल ही में नवंबर 2023 में, भारत और किस पड़ोसी देश ने संयुक्त सैन्य अभ्यास 'सूर्य किरण' में भाग लिया ?  
(A) श्रीलंका (B) नेपाल  
(C) मालदीव (D) म्यांमार  
Recently in November 2023, India and which neighbouring country participated in Joint Military Exercise "Surya Kiran" ?  
(A) Sri Lanka (B) Nepal  
(C) Maldives (D) Myanmar

74. 2016 में की गई नोटबंदी में किस मूल्य की मुद्रा को चलन से बाहर कर दिया गया था ?  
Which denominations of currency was taken out of circulation in the demonetisation done in 2016 ?  
(A) 100 & 500 (B) 1000 & 2000  
(C) 2000 & 500 (D) 1000 & 500
75. उत्तर प्रदेश में, साइबर अपराध मुख्यालय कहाँ स्थित है ?  
(A) मेरठ (B) प्रयागराज  
(C) कानपुर (D) लखनऊ  
In Uttar Pradesh, where is the Cyber Crime Headquarters located ?  
(A) Meerut (B) Prayagraj  
(C) Kanpur (D) Lucknow
76. जीएसटी का तथ्य है  
(A) सरकारी बिक्री कर  
(B) वस्तु एवं सेवा कर  
(C) माल और बिजली कर  
(D) सरकारी सेवा कर  
GST stands for  
(A) Government Sales Tax  
(B) Goods and Services Tax  
(C) Goods and Sales Tax  
(D) Government Service Tax
77. प्रधानमंत्री ने 'संत मीराबाई जन्मोत्सव' में भाग लिया, जो \_\_\_\_\_ में संत मीराबाई की 525वीं जयंती मनाने का कार्यक्रम था।  
(A) नयूर (B) द्वारका  
(C) रीशिकेश (D) कुर्की  
The Prime Minister participated in Sant Mirabai Jantotsav, a program to celebrate the 525<sup>th</sup> birth anniversary of Sant Mirabai in \_\_\_\_\_  
(A) Mathura (B) Dwarka  
(C) Rishikesh (D) Kurki
78. निम्नलिखित में से किस देश ने 2024 में ब्रिक्स समूह में शामिल होने से इनकार कर दिया ?  
(A) ईरान (B) अर्जेंटीना  
(C) भारत (D) रूस  
Which of the following country refused to join the BRICS group in 2024 ?  
(A) Iran (B) Argentina  
(C) India (D) Russia

79. भारत में "राष्ट्रीय एकता दिवस" किस तारीख को मनाया जाता है ?  
(A) 26 जनवरी (B) 14 नवंबर  
(C) 2 अक्टूबर (D) 31 अक्टूबर  
The "Rashtriya Ekta Diwas" celebrated on which date in India ?  
(A) 26<sup>th</sup> January (B) 14<sup>th</sup> November  
(C) 2<sup>nd</sup> October (D) 31<sup>st</sup> October
80. निम्नलिखित में से किस प्रसिद्ध लेखक को "उपन्यास सम्राट" के नाम से जाना जाता है ?  
(A) हरिवंश राय बच्चन  
(B) सूर्यकांत त्रिपाठी 'निराला'  
(C) मुन्शी प्रेमचंद  
(D) माखनलाल चतुर्वेदी  
Which of the following famous author is known as "Upanyas Samrat" ?  
(A) Harivansh Rai Bachchan  
(B) Suryakant Tripathi 'Nirala'  
(C) Munshi Premchand  
(D) Makhnallal Chaturvedi
81. हाल ही में, चिराग चन्द्रशेखर शेट्टी ने किस खेल में संबंधित मेजर ध्यानचंद खेल रत्न पुरस्कार 2023 जीता ?  
(A) क्रिकेट (B) तीरंदाजी  
(C) कुश्ती (D) बैडमिंटन  
Recently, Chirag Chandrashekhur Shetty won Major Dhyan Chand Khel Ratna Award 2023 belongs to which sport ?  
(A) Cricket (B) Archery  
(C) Wrestling (D) Badminton
82. निम्नलिखित में से कौन फिलीपींस की राजधानी है ?  
(A) बैंकाक (B) मनीला  
(C) जकार्ता (D) कुआलालम्पुर  
Which of the following is the capital of Philippines ?  
(A) Bangkok (B) Manila  
(C) Jakarta (D) Kuala Lumpur

83. हाल ही में, प्रधानमंत्री ने निम्नलिखित में से किस स्थान पर स्थित, भारत के सबसे बड़े सम्मेलन और प्रदर्शन केंद्र IICC (याशहबूमि) का उद्घाटन किया है ?  
(A) वाराणसी (B) नई दिल्ली  
(C) चंडीगढ़ (D) फरीदाबाद  
Recently, The Prime Minister inaugurated India's largest convention and exhibition centre IICC (Yashbhoomi) is located at which of the following places ?  
(A) Varanasi (B) New Delhi  
(C) Chandigarh (D) Faridabad
84. निम्नलिखित में से कौन सा भारत में पुलिस का सर्वोच्च सम्मान है ?  
(A) राष्ट्रपति पुलिस वीरता पुरस्कार  
(B) पद्मश्री  
(C) परवीर चक्र  
(D) महावीर चक्र  
Which of the following is the highest honour for Police in India ?  
(A) President's Police Gallantry Award  
(B) Padma Shri  
(C) Param Vir Chakra  
(D) Mahavir Chakra
85. सोशल मीडिया नेटवर्क में पहले जिसे फेसबुक, इंक. के नाम से जाना जाता था, का नाम बदलकर \_\_\_\_\_ कर दिया गया।  
(A) मेटा (B) ऑर्कुट  
(C) ट्विटर (D) बिंग।  
In the social media network formerly known as Facebook, Inc. was renamed to \_\_\_\_\_  
(A) Meta (B) Orkut  
(C) Twitter (D) Bing!
86. चंद्रयान 3 के लैंडर का क्या नाम है ?  
(A) विज्ञान (B) आदित्य  
(C) विक्रम (D) प्रज्ञान  
What is the name of the lander of Chandrayaan 3 ?  
(A) Vigyaan (B) Aditya  
(C) Vikram (D) Pragyaan